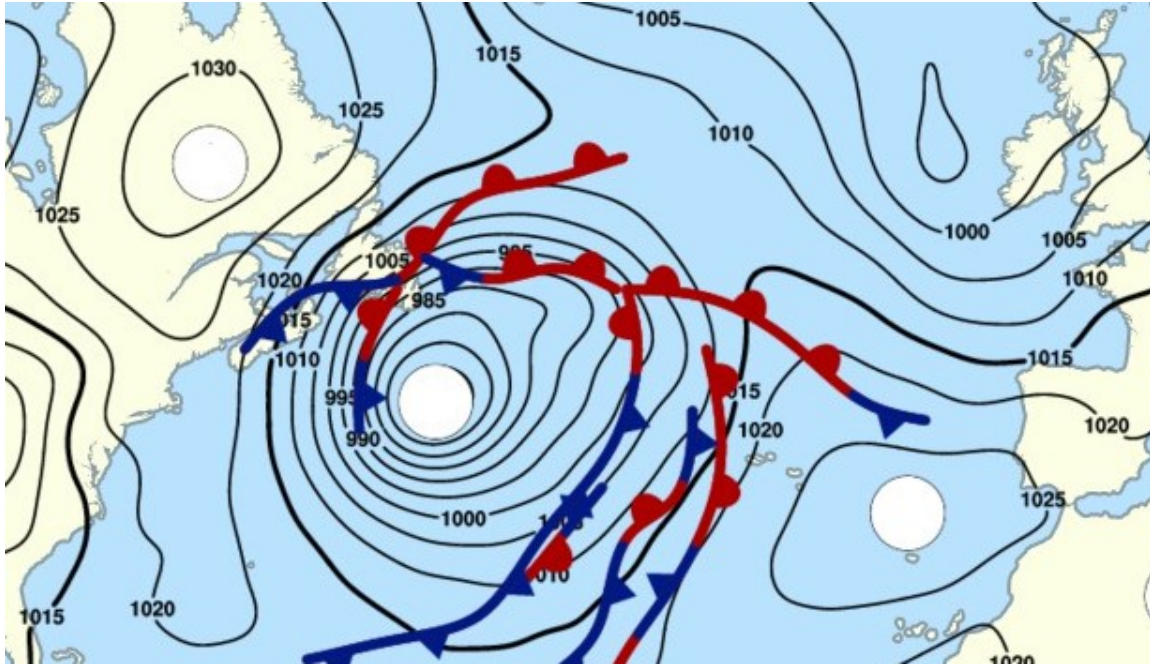


Exercices d'entraînement avant l'évaluation



Exercice n°1

Consigne: Compléter la carte A: pour anticyclone, D: pour dépression. Indiquer la zone où les vents sont les plus forts.



Carte de prévision de vendredi 31 mars 2017 <http://marine.meteoconsult.fr/cartes-meteo-marine/frontologie-2.php>



Exercice n°2

Consigne: Explique à un élève ce qu'il voit sur le toit du collège, en légendant les différents appareils et en lui indiquant ce qu'ils mesurent.

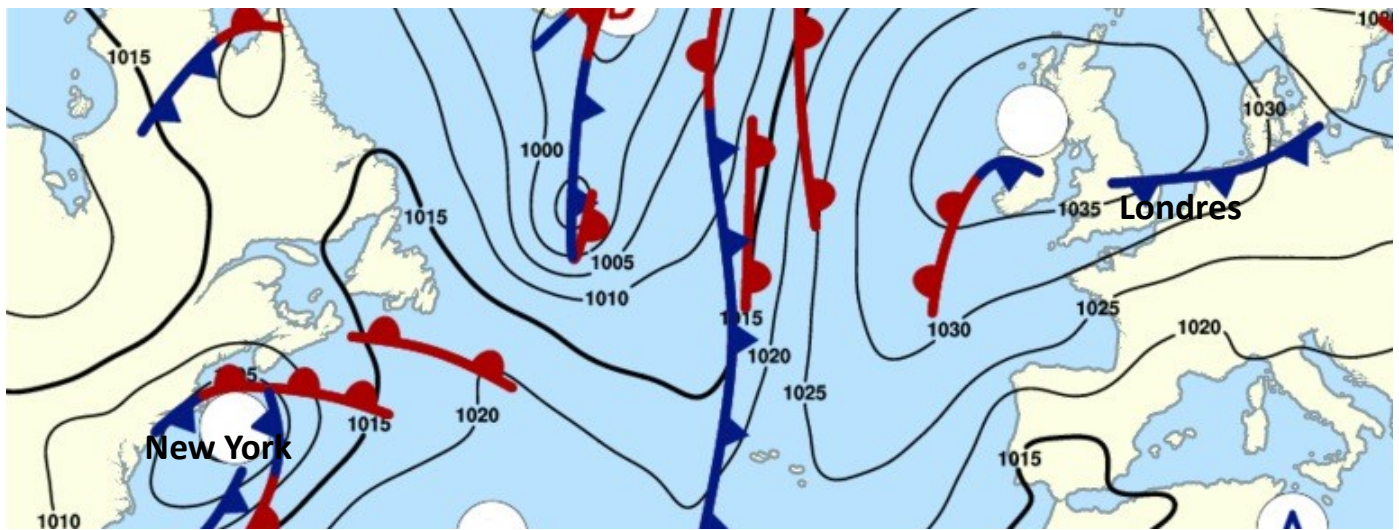


Exercices d'entraînement avant l'évaluation



Exercice n°3

Consigne: Des collégiens d'Angleterre quittent Londres pour se rendre à New York. Quel temps fait-il lorsqu'ils montent dans l'avion à Londres? Et quand ils atterrissent à New-York?

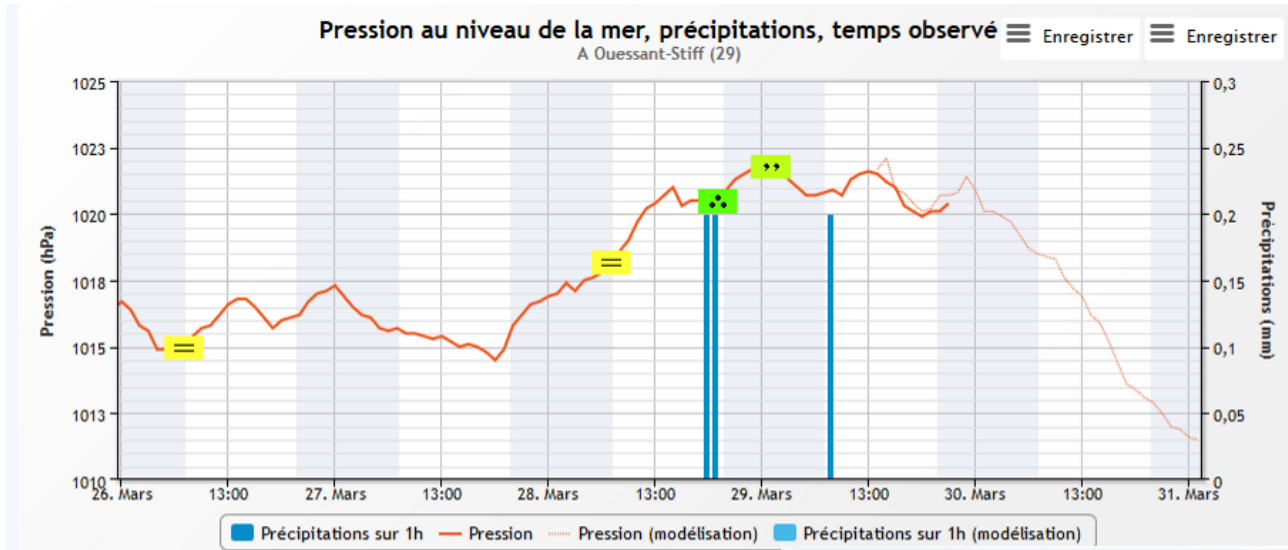


Carte de prévision de mercredi 05/04 2017 <http://marine.meteoconsult.fr/cartes-meteo-marine/frontologie-2.php>



Exercice n°4

Consigne: A partir des 3 documents, explique pourquoi le temps devient de plus en plus nuageux et pluvieux à Ouessant (53 mètres au-dessus de la mer)



À l'altitude 0, donc au niveau moyen de la mer, la pression atmosphérique est en moyenne de 1013 hPa (hectopascals)

